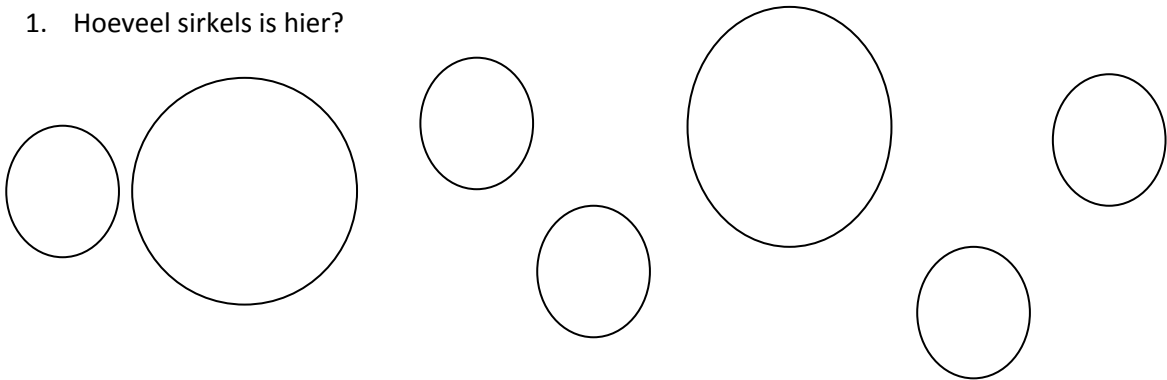


Wiskunde en vorms

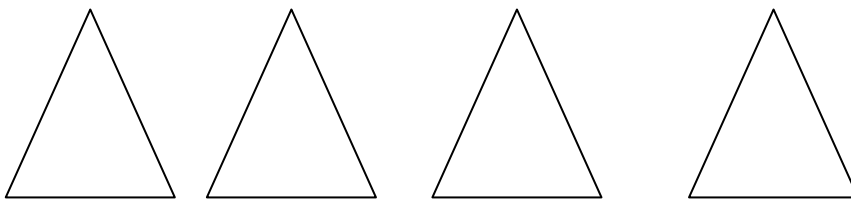
Beantwoord die volgende vrae.

Trek 'n sirkel om die regte antwoord, of skryf die antwoord neer. Vra vir mamma, papa, boet of sus na die tyd om te kyk hoeveel jy reg gekry het. Die Antwoorde is ook onder aan die blad.

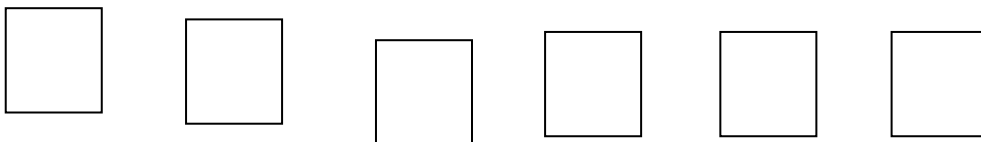
1. Hoeveel sirkels is hier?



2. Hoeveel drie hoeke is hier?




3. Hoeveel vierkante is hier?




4. Hoeveel reghoeke is hier?



5. Hoeveel hartjes is hier?



6. Hoeveel gesigies is hier?



Antwoorde.

1. 7
2. 4
3. 6
4. 2
5. 6
6. 4